

PONEDELJEK in TOREK: Anica in grozovitež

Poslušanje in zapis v zvezek (stran 5 – 19)

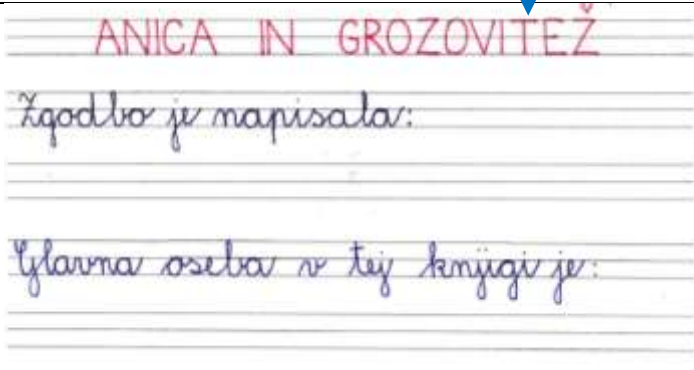
Poišči PRIPONKO T7 – Anica in grozovitež - 1.del

Po poslušanju vsebine, naredi zapis v zvezek.

ZAPIS V ZVEZKU ↓

NA DALJAVO BOMO OPRAVLJALI DOMAČE BRANJE. VSAK DAN BOMO PREBRALI DOGOVORJENI DEL KNJIGE.

- Preberi (ali poslušaj) del zgodbe od začetka do strani 19.
- V zvezek zapiši zahtevane podatke tako, kot je prikazano na desni strani. Piši s pisanimi črkami (dokončaj začete povedi).

**Kaj drži za Anico?**

- Preberi zapisane povedi in ugotovi, katere veljajo, opisujejo Anico.

ANICA

Je stara dvanajst let.

Hodi v tretji razred.

Je 4 leta mlajša od sestre.

Je stara osem let.


Je najstarejša od obeh sester.

Ima rjave lase.

Hodi v sedmi razred.


Ima svetle, nakodrane lase.

- Povedi nato prepiši v zvezek tako, kot je prikazano na desni strani. Piši s pisanimi črkami.

*** Kako Anica vidi sebe?**

*Preberi spodnje povedi in ugotovi, v katerih je zapisana trditev, ki drži za Anico.

- Je visoke rasti.
- Je okroglaste postave.
- Ima neopazen in neizržit obraz.
- Je nizke rasti.
- Je vitke postave.
- Njeni lasje so nakodrani in rjavi.



*Te trditve s pisanimi črkami prepiši v zvezek tako, kot je nakazano na desni strani.

SREDA: Popravi pravopisne napake

Preberi poved, najdi napake in poved pravilno prepisi v zvezek. Število v oklepaju ti pove, koliko je napak v njej. Piši lepo.

Maja in tomaž sta šla v gozt. (2)

Koliko je ura. (1)

Muca pika nebo plavala. (2)

Nat travnikom je leteu metul. (3)

Medvet iz živalskega vrta v ljubljani ima najraje sladolet. (3)

(Prosim, če zapis v zvezku fotografirate in pošljete učiteljici.)

***Če si bil hiter, lahko rešiš še to.**

Učiteljica helena živi v mariboru. (3)

Simon je prišeu v sobo in vrgel nahrptnik u kot. (3)

ČETRTEK: Seznam (DZ stran 62)

PETEK: Seznam (DZ stran 63)

MATEMATIKA

PONEDELJEK: Prostornina (DZ stran 72)

NAVODILA ZA DELO:

Na kuhinjski pult si pripravi en manjši kozarec ter dve večji posodi, ki sta po velikosti približno enako veliki. V katero posodo lahko natočiš več vode? Posoda, ki sprejme več vode, ima večjo PROSTORNINO. Kako bi to dokazal?



Vodo natoči v kozarec do vrha in vodo zlij v prvo posodo. To naredi tolikokrat, dokler posoda ne bo polna. Štej, koliko kozarcev si potreboval, da si napolnil prvo posodo. Enako stori še za drugo posodo.

Dokazal si, da ima posoda, ki je sprejela več kozarcev z vodo oz. več vode, večjo prostornino.

Reši še naloge v DZ na strani 72. ***Če želiš, lahko rešiš tudi stran 73.**

TOREK: Liter, deciliter – praktično delo

Poišči PRIPONKO T7 – Liter, deciliter Tu so tudi navodila za praktično delo.

SREDA: Liter, deciliter (DZ stran 74)

Reši naloge na strani 74. * **Če želiš rešiš tudi strani 75.**

ČETRTEK: Ponovim do 100 (DZ stran 36)

Preden rešiš nalogo v DZ, si oglej posnetek v PRIPONKI **T7 – Števila do 1000 - 1.del**

(Prosim, če zapis v zvezku fotografirate in pošljete učiteljici.)

PETEK: Števila do 1000 (DZ stran 37)

Preden rešiš nalogo v DZ, si oglej posnetek v PRIPONKI **T7 – Števila do 1000 - 2.del**

SPOZNAVANJE OKOLJA

Prazniki

Med prvomajskimi počitnicami smo praznovali dva državna praznika. Na spodnji povezavi si lahko gledaš posnetka o praznikih:

- dan upora proti okupatorju (27. april.): <https://youtu.be/OTd9D2DYm-s>
- praznik dela (1. in 2. maj.): <https://youtu.be/qgg6-lt4lpM> ali <https://youtu.be/dAMn6SmaD8s>

Naravna življenjska okolja

Poišči priponko **T7 – Naravna življenjska okolja**. Ko si ogledaš vsebino priponke, naredi zapis v zvezek.

ZAPIS V ZVEZEK:

Pri vsakem življenjskem okolju zapiši vsaj dve živali in rastlini.

* **Če želiš lahko zapis dopolniš tako, da zraven kaj narišeš ali zalepiš kakšne sličice.**

Naravna življenjska okolja		
IME	ŽIVALI	RASTLINE
gozd	srna, neverica	hrast, gobe
travnik		
gorški svet		
jama		
reka in jezero		

PONEDELJEK:

Tokrat boš izdelal učni pripomoček za matematiko, ki ga boš uporabil v naslednjih tednih. Pri izdelavi pripomočka si lahko pomagaš z barvanjem (flomastri, tempera barvami, voščenkami...), barvnim papirjem...



Tvoja naloga je:

- poišči **10** majhnih kamenčkov ALI **10** majhnih lego kock ALI **10** majhnih kvadratnih lističev...



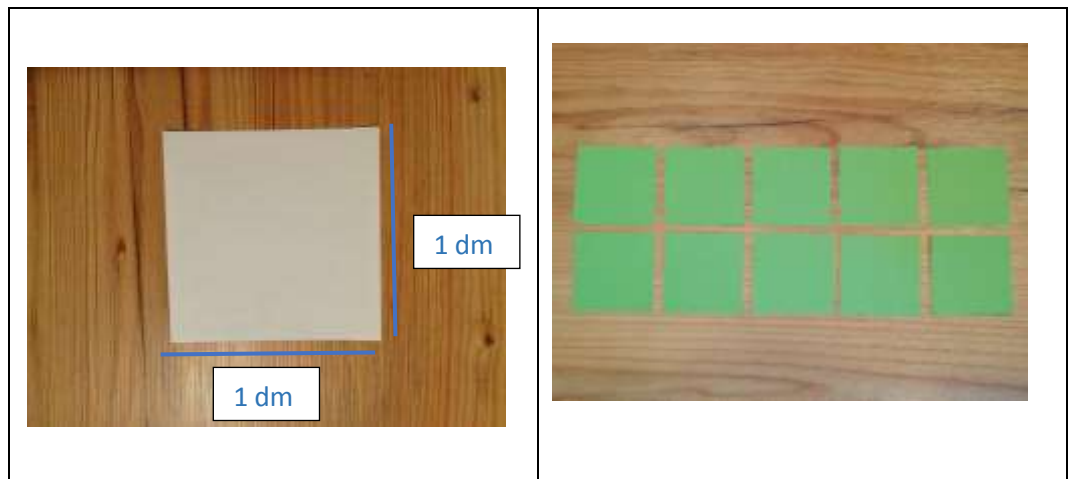
To bo predstavljalo enice. To je **modre barve**.

- poišči **10** lesenih paličic ALI izreži 10 dolgih papirnatih trakcev dolgih **1 dm**,



To bo predstavljalo desetice. To je **rdeče barve**.

- izreži **10** kvadratov iz papirja, tršega papirja ali kartona dolgega približno **1 dm** in širokega **1 dm**.






To bo predstavljalo stotice. To je **zelene barve**.

Ko končaš, izdelano pospravi v kakšno škatlo, da bodo na varnem.

Pesem, ki že znaš zapeti, jo spremljaj z lastnimi inštrumenti.

Legenda:

	1 X PLOSKNI
	1X UDARI PO KOLENU
	1 X TLESKNI S PRSTI

Čin, čin, čin Drežnica (ljudska)

Čin, čin, čin Dre - žni - ca, kje so kozice,



go - ri na tra - vi - ci, kjer ni vodice.



Hoja, hoja, hojajaja...



Son - če - ce si - je nam, dežek pa gre,



naš mli - nar pa me - lje brez vsake vode.



Hoja, hoja, hojajaja...



Dekle (Mojčka) je šivala vse brez šivanke,
fantič brez noge je skakal čez planke.
Hoja, hoja, hojajaja...

Za zadnjo kitico
si sam zamisli
spremljavo in ob
tem zapoj.

Še vedno se veliko gibaj v naravi ali pojdi na sprehod.

MET ŽOGE: Žogo lahko mečeš ob steno, lahko si jo podajaš z družinskimi člani ali se z njimi igraš igro pepček, petelinček.

***Če želiš, lahko izvedeš tudi spodnjo športno nalogo.**

ŠPORTNI LOV NA ZAKLAD: Lov na zaklad naj se začne v tvoji sobi. Izpolniti moraš gibalne naloge v vseh hišnih prostorih, vsakič pa se moraš vmes vrniti v svojo sobo.

	vaja
TVOJA SOBA	20 POSKOKOV LEVO - DESNO
DNEVNA SOBA	KROŽENJE Z ROKAMI 20 KRAT
KUHINJA	10 SKLEC
KOPALNICA	15 POČEPOV
HODNIK	10 POSKOKOV
VHODNA VRATA	KROŽENJE Z BOKI V VSAKO SMER 5 KRAT
STARŠI	SKUPAJ Z NJIMI NAREDI 5 POSKOKOV
TVOJA SPALNICA	ULEŽI SE NA POSTELJO IN UŽIVAJ 😊