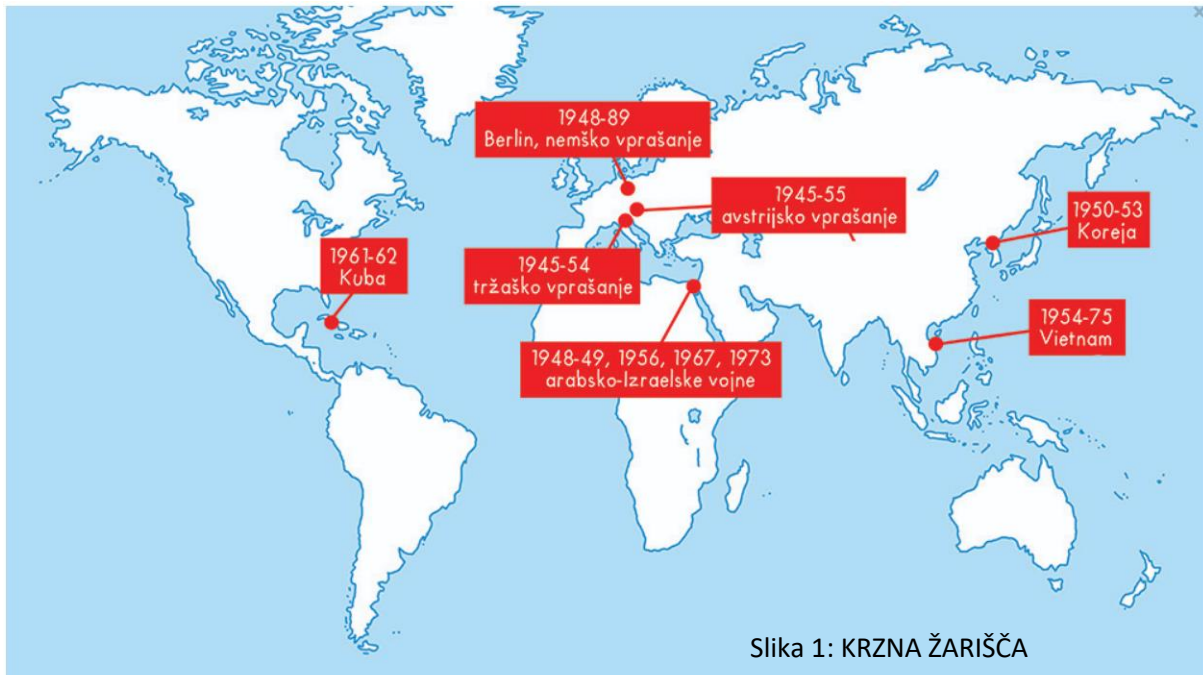


## KRIZNA ŽARIŠČA HLADNE VOJNE



Slika 2: TRŽAŠKO VPRAŠANJE

- Cona A Julijske krajine (pod vojaško upravo zaveznikov)
- Cona B Julijske krajine (pod voj. upravo Jugosl. armade)
- Svobodno tržaško ozemlje
- meja med Avstrijo in Italijo do 1918
- meja med Jugoslavijo in Italijo do 1918 – 1941
- italijanski razmejitveni predlog
- jugoslovanski razmejitveni predlog
- meja Jugoslavije od februarja 1947



LISTI S SLIKAMI IN ZEMLJEVIDI

(str. 1 in 3):

NI POTREBNO NATISNITI ali  
PERISATI

## KRIZNA ŽARIŠČA HLADNE VOJNE - EVROPA

- Kaj je **KRIZNO ŽARIŠČE**? \_\_\_\_\_
- Kje se pojavijo **KRIZNA ŽARIŠČA**? \_\_\_\_\_  
\_\_\_\_\_

### 1. TRŽAŠKO VPRAŠANJE (str. 121)

#### a) DELITEV JULIJSKE KRAJINE

Kdaj? \_\_\_\_\_, mirovna pogodba

Kako? (Pomagaj si z zemljevidom str. 121 ali na prvi strani slika 2)

	CONA A	CONA B	STO je _____ _____
ozemlje			
Komu pripada?			

V katero cono so spadala Goriška brda? \_\_\_\_\_

#### b) DELITEV STO-ja

Kdaj? \_\_\_\_\_, londonski memorandum

Kako? (navedi kdo dobi kaj)

- Italija:
- Jugoslavija:
- »Slovenija«:

Ali sta bili obe strani zadovoljni? Zakaj? \_\_\_\_\_  
\_\_\_\_\_

#### c) DOKONČNA DELITEV

Kdaj? \_\_\_\_\_, osimski sporazumi

Kaj? Dokončna potrditev meja.

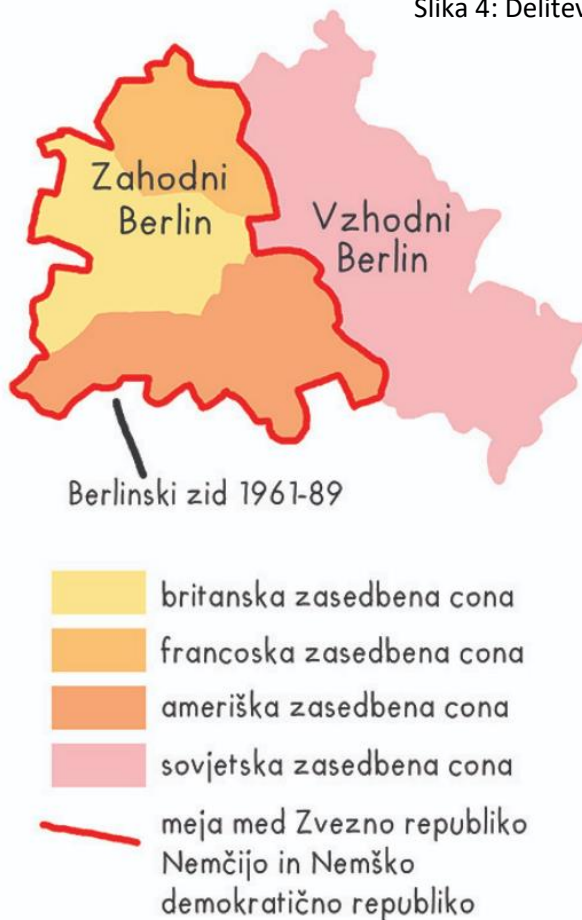
Kako je potekalo življenje na obeh straneh? \_\_\_\_\_  
\_\_\_\_\_

Kdo je BORIS PAHOR in zakaj je pomemben za Slovence? \_\_\_\_\_  
\_\_\_\_\_



Slika 3: Nemško vprašanje

Slika 4: Delitev Berlina



Avstrijska državna pogodba:  
[http://stres.a.gape.org/VTA/ADP\\_avstrijska\\_drzavna\\_pogodba/neur\\_prevod\\_avstrijska\\_drzavna\\_pogodba.pdf](http://stres.a.gape.org/VTA/ADP_avstrijska_drzavna_pogodba/neur_prevod_avstrijska_drzavna_pogodba.pdf)

7. člen, stran 4.

## 2. AVSTRIJSKO VPRAŠANJE

Oglej si zemljevid slika 3 in navedi, kako je bila razdeljena Avstrija.

a) Delitev Avstrije na \_\_\_\_\_ cone:

- 
- 
- 
- 

- Kaj pa Dunaj? \_\_\_\_\_

b) Republika Avstrija

Kdaj? \_\_\_\_\_, avstrijska državna pogodba

Kateri člen v avstrijski pogodbi je pomemben za Slovence? Zakaj? \_\_\_\_\_

\_\_\_\_\_

## 3. NEMŠKO VPRAŠANJE

Oglej si zemljevid slika 3 in navedi, kako je bila razdeljena Nemčija.

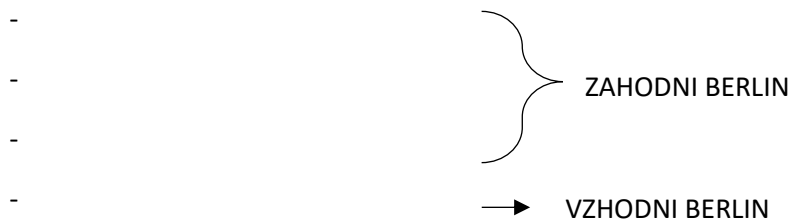
a) Delitev Nemčije na \_\_\_\_\_ cone:

- 
- 
- 
- 

- Kaj pa Berlin? \_\_\_\_\_

IME (vse tri vrste poimenovanja)		
okupacijske cone		
zahodni/vzhodni blok		
politični in gospodarski sistem		
Razmere (življenje, gospodarstvo)		

b) Delitev Berlina na \_\_\_\_\_ cone:



c) Berlinski zid

Oglej si videoposnetek: [https://www.youtube.com/watch?v=sYSoJ\\_aXlmw&t=11s](https://www.youtube.com/watch?v=sYSoJ_aXlmw&t=11s)

Kaj je? \_\_\_\_\_

Namen? \_\_\_\_\_

Od kdaj do kdaj? \_\_\_\_\_

Opis: \_\_\_\_\_

3d berlinski zid: [https://www.mozaweb.com/sl/Extra-3D\\_animacije-Berlinski\\_zid\\_1961\\_1989-12037](https://www.mozaweb.com/sl/Extra-3D_animacije-Berlinski_zid_1961_1989-12037)

#### 4. JUGOSLOVANSKO VPRAŠANJE

Kaj je bil namen informbiroja? Kaj je želela SZ z njim doseči? \_\_\_\_\_

\_\_\_\_\_

a) SPOR Z INFORMBIROJEM

Kdaj?

Zakaj?

Kdo se upre?

Kakšne posledice je imel izstop za Jugoslavijo?

Kaj pomeni MEDNARODNA OSAMA?

Kdo priskoči na pomoč Jugoslaviji?

Kaj je TITOIZEM?

Kdo je Josip Broz TITO?